



**ROTEIRO DE REVISÃO 3º TRIMESTRE  
ESCOLA MUNICIPAL MARIA DO CARMO CAMPOS**

**PROFESSORAS: MEIRE, SILVANA PERÍODO: SRM MATUTINO E**

**VESPERTINO**

**COMPONENTES CURRICULARES: LÍNGUA PORTUGUESA E MATEMÁTICA**

**PERÍODO DE REALIZAÇÃO: 23/11 A 27/11/2020**

**3º ANO / 4º ANO**

**Senhores pais e responsáveis**

Seu filho deverá realizar todas as atividades e colocá-las no saquinho ou envelope. Ele terá o período de 23 à 27 de NOVEMBRO para concluir essas atividades. Cuidem-se e cuidem de sua família. Em breve tudo estará bem.

Um abraço,  
**Professora**

<b>VÍDEO ÁUDIO PROFESSOR</b>	<b>OU DO</b> Pelo wats no dia da aula.
<b>O QUE VOCÊ VAI ESTUDAR:</b>	<ul style="list-style-type: none"> <li>➤ <u>Língua Portuguesa</u>: leitura e interpretação do texto, leitura de imagem e escrita de frases.</li> <li>➤ <u>Matemática</u>: operações de multiplicação, adições e subtrações, identificação dos resultados, montagem de imagem, ordem crescente.</li> <li>➤ <u>Psicomotricidade</u>: leitura, interpretação, desenho, pintura do gato de acordo com o texto</li> </ul>
<b>PARA QUE VAMOS ESTUDAR ESSES CONTEÚDOS?</b>	<ul style="list-style-type: none"> <li>- Ler, interpretar o texto “O gatinho Geraldo”, fazer leitura de imagem e escrita de frases.</li> <li>- Resolver operações de multiplicação e montar a figura de acordo com os resultados;</li> <li>- Solucionar as operações de adição e subtração e identificar os resultados corretos;</li> <li>- Aprimorar a coordenação motora fina ao recortar, colar e pintar os desenhos.</li> </ul>
<b>COMO VAMOS ESTUDAR OS CONTEÚDOS?</b>	<ul style="list-style-type: none"> <li>- Selecione as atividades diárias conforme orientação da professora;</li> <li>- Faça a leitura das atividades selecionadas, em seguida desenvolva-as na mesma folha a qual ela está inserida.</li> <li>- Lembre-se de datar as páginas.</li> </ul>
<b>COMO VAMOS REGISTRAR O QUE APRENDEMOS?</b>	<p>Organize seus estudos!!</p> <p>Vamos registrar nossos estudos através de leitura, leitura de imagem, observações e registros por escrito através de frases, operações de multiplicação, subtração e adição, pintura, recortes e colagem.</p> <p>Coloque a data em que irá realizar as atividades e coloque-as dentro do saquinho.</p>

## LÍNGUA PORTUGUESA

### LÍNGUA PORTUGUESA



O gatinho Geraldo  
Geraldo é o gatinho  
de Gina.

Geraldo viu o gambá tomando o leite que  
estava em seu pratinho.

Rapidamente Geraldo correu para espantar  
o gambá.

Mas o danado do bichinho, subiu na  
goiabreira, pulou no galinheiro e sumiu.

O gatinho subiu atrás, porém ficou "preso"  
no galho mais alto da goiabreira.

E agora? Quem irá ajudar o gatinho  
Geraldo?

Isabel Cristina S. Soares

- Numere os parágrafos do texto.

## ESTUDANDO O TEXTO

1) Responda.

a) Quais são os personagens do texto?

---

---

b) Qual é o personagem principal?

---

2) Marque a resposta correta.

a) O gatinho correu atrás do gambá:

( ) para brincar com o bichinho.

( ) para lhe entregar o leite.

( ) para o espantar.

b) O gambá subiu:

( ) no pé de caju.

( ) no pé de goiaba.

( ) no pé de laranja.



3) Observe a cena e escreva o parágrafo correspondente.

---

---

---



4) Qual sentimento ficou evidente quando o gatinho viu o gambá no pratinho de leite?

- raiva
- tristeza
- solidariedade



5) Qual é o nome da dona do gatinho?

---

---

6) Em sua opinião, quem poderá ajudar o gatinho a descer da goiabira?

---

---

7) Com a frase: "O gatinho subiu atrás, porém ficou "preso" no galho...."











Lendo o texto e observando a ilustração, a palavra grifada significa que:

- O gatinho prendeu um perna nos galhos.
- O gambá acorrentou o gatinho na árvore.
- O gatinho ficou impossibilitado de descer porque ficou com muito medo da altura.



**MATEMÁTICA**

FAÇA AS MULTIPLICAÇÕES, DESCUBRA OS RESULTADOS E DEPOIS RECORTE E MONTE O QUEBRA-CABEÇA, COLANDO CADA PEÇA EM CIMA DO SEU RESULTADO.



x	3	5		
5				
2				
9				
6				
3				





## MATEMÁTICA

Vamos descobrir quem está com o resultado correto em cada operação? Marque e registre.

	Pedro	Laura
$36 + 21 =$ <input type="text"/>	 59	 57
$136 + 48 =$ <input type="text"/>	194	184
$97 - 49 =$ <input type="text"/>	48	51
$127 - 86 =$ <input type="text"/>	63	41
$78 + 93 =$ <input type="text"/>	171	231

- Quem teve mais acertos foi: \_\_\_\_\_.
  - Coloque os resultados em ordem crescente.
- 
-

## **PSICOMOTRICIDADE**

DESENHE O OLHO, O FOCINHO E A BOCA DOS GATOS, DEPOIS LEIA O QUE ESTÁ ESCRITO DENTRO DE CADA GATO E PINTE DE ACORDO COM O TEXTO.

